

PROBLEMA A.3. Se da la función f definida por $f(x) = \frac{1}{x^2 - 5x + 6}$

Obtener **razonadamente, escribiendo todos los pasos del razonamiento utilizado:**

- Dominio y asíntotas de la función f . (2 puntos)
- Intervalos de crecimiento y decrecimiento de la función f . (3 puntos)
- La integral $\int f(x) dx$. (3 puntos)
- El valor de $a > 4$ para el que el área de la superficie limitada por la curva $y = f(x)$ y las rectas $y = 0$, $x = 4$ y $x = a$ es $\ln(3/2)$. (4 puntos)

Solución:

a) *Dominio y asíntotas.*

Dominio,

$$f(x) = \frac{1}{x^2 - 5x + 6}$$

$$x^2 - 5x + 6 = 0 \rightarrow x = \frac{-(-5) \pm \sqrt{(-5)^2 - 4 \cdot 1 \cdot 6}}{2 \cdot 1} = \frac{5 \pm \sqrt{1}}{2} = \frac{5 \pm 1}{2} = \begin{cases} x_1 = \frac{5+1}{2} = 3 \\ x_2 = \frac{5-1}{2} = 2 \end{cases}$$

Por tanto, $\text{Dom } f(x) = \mathcal{R} \sim \{2, 3\}$

Asíntotas.

Asíntotas verticales,

Las posibles asíntotas verticales son $x = 2$ y $x = 3$. Comprobemos.

$$\lim_{x \rightarrow 2} \frac{1}{x^2 - 5x + 6} = \frac{1}{2^2 - 5 \cdot 2 + 6} = \frac{1}{0} = \infty, \text{ por tanto } x = 2 \text{ es asíntota vertical.}$$

$$\lim_{x \rightarrow 3} \frac{1}{x^2 - 5x + 6} = \frac{1}{3^2 - 5 \cdot 3 + 6} = \frac{1}{0} = \infty, \text{ por tanto } x = 3 \text{ es asíntota vertical.}$$

Asíntota horizontal,

$$\left. \begin{aligned} \lim_{x \rightarrow -\infty} \frac{1}{x^2 - 5x + 6} &= \frac{1}{\infty} = 0 \\ \lim_{x \rightarrow +\infty} \frac{1}{x^2 - 5x + 6} &= \frac{1}{\infty} = 0 \end{aligned} \right\}, \text{ por tanto } y = 0 \text{ es la asíntota horizontal}$$

Asíntota oblicua,

$$\lim_{x \rightarrow -\infty} \frac{1}{x^2 - 5x + 6} = \lim_{x \rightarrow -\infty} \frac{1}{x^3 - 5x^2 + 6x} = \frac{1}{\infty} = 0, \text{ por tanto no tiene asíntota oblicua.}$$

La función f tiene dos asíntotas verticales, $x = 2$ y $x = 3$, y una asíntota horizontal $y = 0$.

b) *Monotonía de la función f .*

Estudiemos el signo de $f'(x)$.

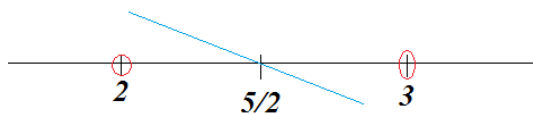
$$f'(x) = \frac{-(2x-5)}{(x^2-5x+6)^2} = \frac{-2x+5}{(x^2-5x+6)^2}$$

Obtengamos las raíces del numerador y del denominador,

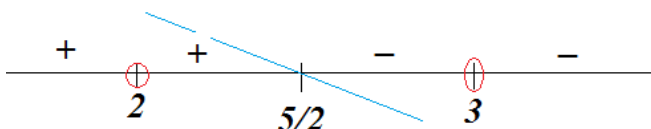
$$-2x + 5 = 0 \rightarrow -2x = -5 \rightarrow x = \frac{-5}{-2} = \frac{5}{2}$$

$$(x^2 - 5x + 6)^2 = 0 \rightarrow x^2 - 5x + 6 = 0 \rightarrow \left. \begin{array}{l} \text{resuelta en a)} \\ \end{array} \right\} \begin{array}{l} x = 2 \\ x = 3 \end{array}$$

Como en $f'(x)$ el denominador es un término al cuadrado, es positivo. Luego el signo de f' depende del numerador que, gráficamente, es una recta de pendiente negativa que pasa por $(5/2, 0)$, por lo que:



El signo de f' es:



Finalmente, $f(x)$ es creciente en $(-\infty, 2) \cup (2, \frac{5}{2})$ y decreciente en $(\frac{5}{2}, 3) \cup (3, +\infty)$.

c) $\int f(x) dx$.

$$\int f(x) dx = \int \frac{1}{x^2 - 5x + 6} dx =$$

$$\frac{1}{x^2 - 5x + 6} = \frac{1}{(x-2)(x-3)} = \frac{A}{x-2} + \frac{B}{x-3} = \frac{A(x-3) + B(x-2)}{(x-2)(x-3)} \rightarrow 1 = A(x-3) + B(x-2)$$

$$\text{Para } x = 3 \rightarrow 1 = B \quad \rightarrow \quad A = -1$$

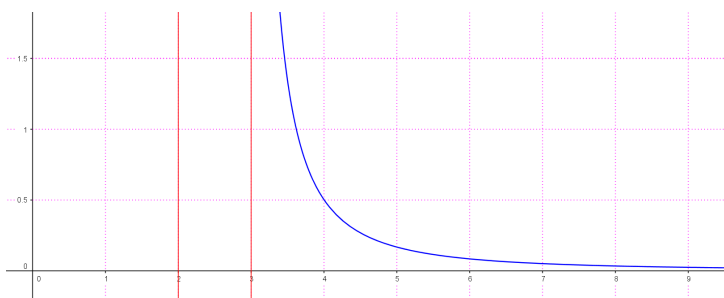
$$\text{Para } x = 2 \rightarrow 1 = -A \quad \rightarrow \quad B = 1$$

$$= \int \left(\frac{-1}{x-2} + \frac{1}{x-3} \right) dx = -\text{Ln}|x-2| + \text{Ln}|x-3| + C = \text{Ln} \left| \frac{x-3}{x-2} \right| + C$$

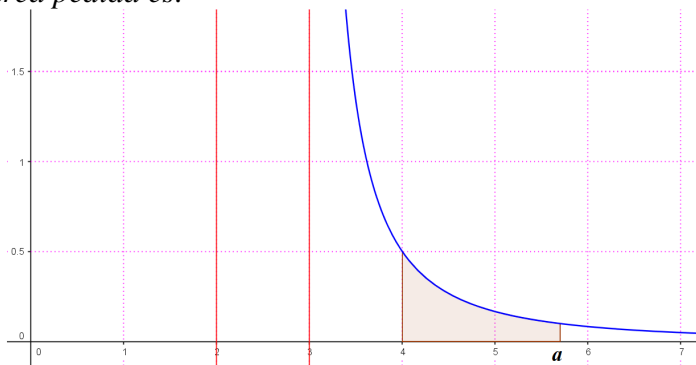
d) ¿a? / $a > 4$ y el área de la superficie limitada por $y = f(x)$ y las rectas $y = 0$, $x = 4$ y $x = a$ es $\ln(3/2)$.

Para determinar el área a calcular representemos la función $f(x)$, para $x \geq 4$, a partir de la información obtenida en los apartados a) y b) y algún punto de la función, por ejemplo,

$$x = 4, \quad f(4) = \frac{1}{4^2 - 5 \cdot 4 + 6} = \frac{1}{2}$$



El área pedida es:



Para calcular este área realizamos la siguiente integral definida:

$$\int_4^a \frac{1}{x^2 - 5x + 6} dx$$

Considerando la integral indefinida obtenida el apartado c,

$$\int_4^a \frac{1}{x^2 - 5x + 6} dx = \left[\text{Ln} \left| \frac{x-3}{x-2} \right| \right]_4^a =$$

$$= \left[\operatorname{Ln} \left| \frac{x-3}{x-2} \right| \right]_4^a = \operatorname{Ln} \left| \frac{a-3}{a-2} \right| - \operatorname{Ln} \left| \frac{4-3}{4-2} \right| = \operatorname{Ln} \left| \frac{a-3}{a-2} \right| - \operatorname{Ln} \left| \frac{1}{2} \right| = \operatorname{Ln} \left| \frac{a-3}{a-2} \right| - \operatorname{Ln} \frac{1}{2}$$

Como el área debe ser $\operatorname{Ln}(3/2)$, entonces:

$$\operatorname{Ln} \left| \frac{a-3}{a-2} \right| - \operatorname{Ln} \frac{1}{2} = \operatorname{Ln} \frac{3}{2}$$

$$\operatorname{Ln} \left| \frac{a-3}{a-2} \right| = \left(\operatorname{Ln} \frac{3}{2} \right) + \left(\operatorname{Ln} \frac{1}{2} \right)$$

$$\operatorname{Ln} \left| \frac{a-3}{a-2} \right| = \operatorname{Ln} \left(\frac{3}{2} \cdot \frac{1}{2} \right)$$

$$\operatorname{Ln} \left| \frac{a-3}{a-2} \right| = \operatorname{Ln} \left(\frac{3}{4} \right) \rightarrow \left| \frac{a-3}{a-2} \right| = \frac{3}{4} \begin{cases} \frac{a-3}{a-2} = \frac{3}{4} \rightarrow 4a-12=3a-6 \rightarrow a=6 \\ \frac{a-3}{a-2} = \frac{-3}{4} \rightarrow 4a-12=-3a+6 \rightarrow 7a=18 \\ a = \frac{18}{7} = 2'5... < 4 \end{cases}$$

Como a debe ser mayor que 4, la solución es $a = 6$.